

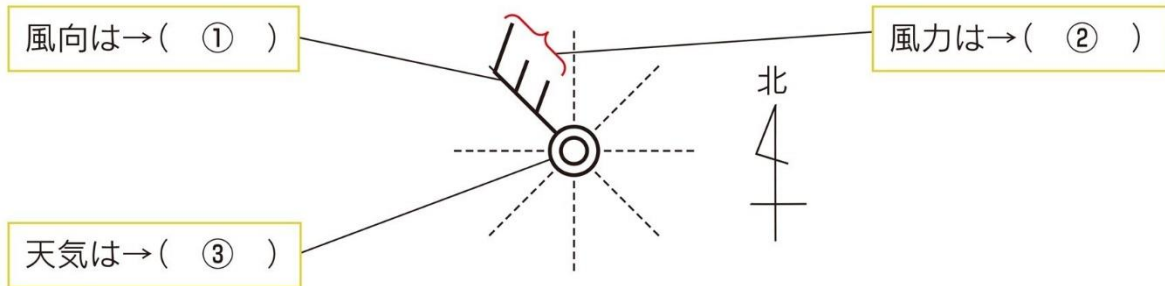
課題プリント 天気の様子 (教科書 p.156~p.158)

目標：天気の様子を覚えよう！

【課題 1 - 1】

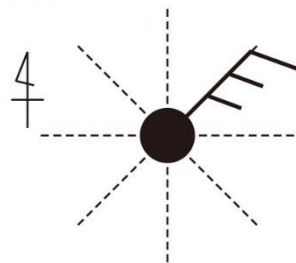
次の問題に答えよ。

(1) 天気図記号を読みとる。①～③にあてはまることばや数字を書きなさい。



(2) 左の天気図記号について、

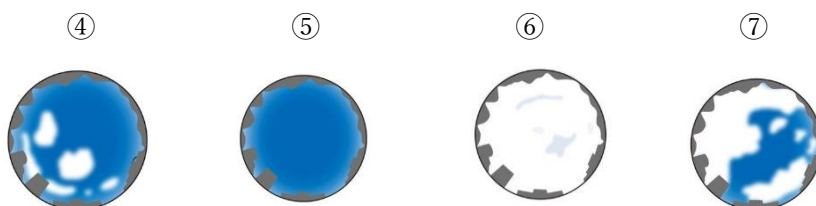
風向、風力、天気を答えよ。



【課題 1 - 2】

次の雲量のとき、天気は何か。①～⑦にあてはまる天気を答えよ。

雲量	0~1	2~8	9~10
天気	①	②	③



【課題 1 - 3】

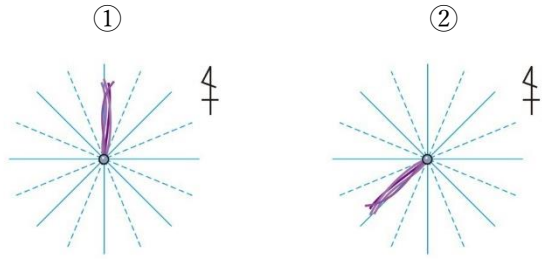
下図を参考に、①～④の風向を答えよ。

【ふき流しと風向】

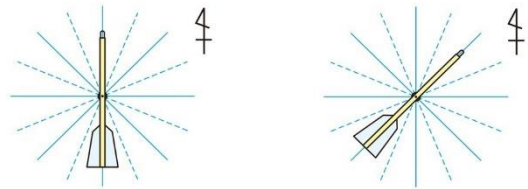
西の風 風 (風向：西)
ふき流しは東にたなびく

【風向計と風向】

矢の向きが西なら風向も西
西の風 (風向：西) はね
風 矢



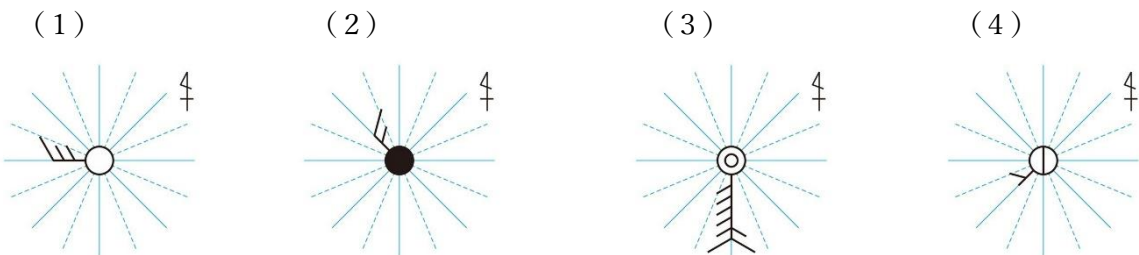
※ふき流しが図の方向にたなびいているとき



※風向計を上から見た図

【課題 1 - 4】

(1)～(4)の天気図記号について、それぞれ ①天気 ②風向 ③風力 を書きなさい。



【課題 1 - 5】

①～⑤にあてはまる天気を答えよ。

記号					
天気	①	②	③	④	⑤

【課題 1 - 6】

以下を参考にしながら、(1)～(6)の天気図記号をそれぞれ書きなさい。

天気	記号	例
快晴	○	
晴れ	①	
くもり	◎	
雨	●	
雪	⊗	

風力	記号	風力	記号
0	○	5	○mm
1	○r	6	○mm
2	○rn	7	○mm
3	○rm	8	○mm
4	○rm	12	○mm

(書き方の例)

角度をまちがえないようにしよう。

× 矢ばねの形をイメージしよう。

左からではないよ。

× 右からと決まっているよ。

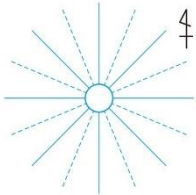
天気：晴れ
風向：北
風力：2

天気：晴れ
風向：北東
風力：2

天気：晴れ
風向：北北東
風力：2

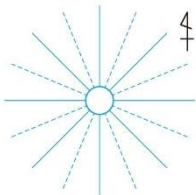
(1)

天気：くもり
風向：南
風力：5



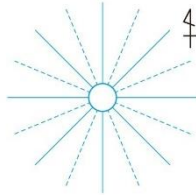
(4)

天気：快晴
風向：北東
風力：2



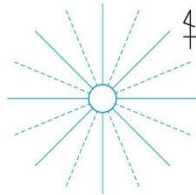
(2)

天気：快晴
風向：北西
風力：3



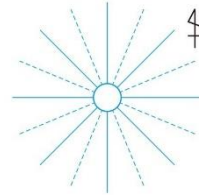
(5)

天気：雨
風向：南西
風力：4



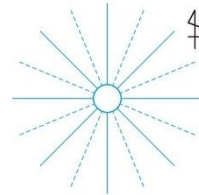
(3)

天気：晴れ
風向：東南東
風力：2



(6)

天気：雪
風向：南南東
風力：3

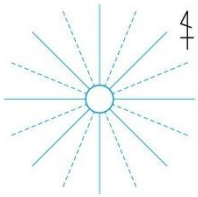


【課題 1 - 7】

雲量から天気を判断し、(1) ~ (4) の天気図記号をそれぞれ書きなさい。

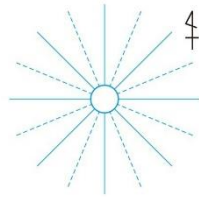
(1)

雲量：4
風向：北
風力：5



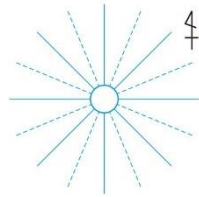
(2)

雲量：1
風向：北東
風力：3



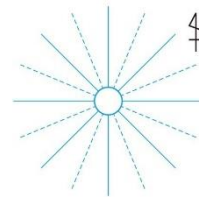
(3)

雲量：9
風向：東北東
風力：4



(4)

雲量：8
風向：西北西
風力：2



天気の見方の課題は以上です。